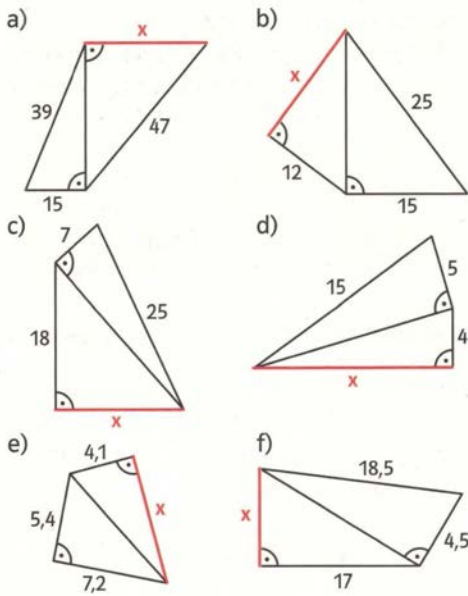


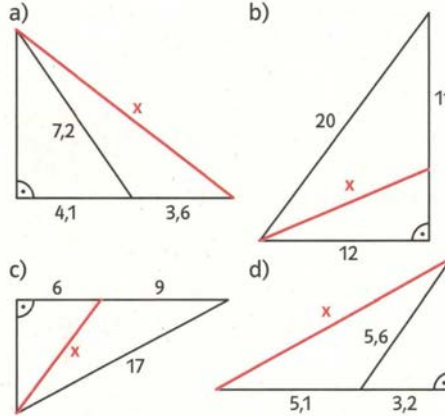
Aufgabe 1:

Berechne x . (alle Maße in cm)



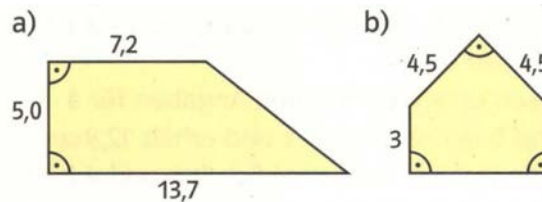
Aufgabe 2:

Berechne x . (alle Maße in cm)

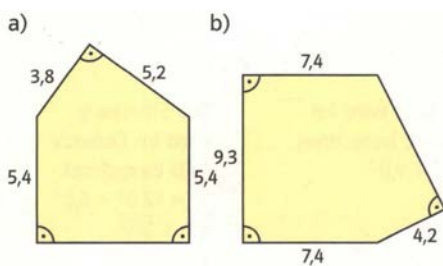


Aufgabe 4:

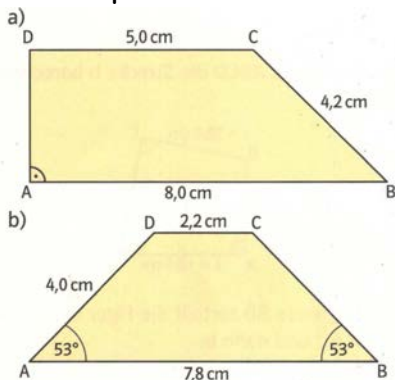
Berechne Umfang und Flächeninhalt der Figur. (in cm)



Aufgabe 3: Berechne den Umfang der Figur. (in cm)



Aufgabe 5: Berechne den Umfang und den Flächeninhalt des Trapezes.



Aufgabe 6: Ein Grundstück wurde wie abgebildet vermessen. Berechne Umfang und Flächeninhalt des Grundstücks. (Maßangabe in m)

